

1. 'সাত ঘণ্টার কানাকড়ি' গ্রন্থের প্রবচনটির অর্থ কি?
A. কপট মনোভা B. নতু ধরনের ক্ষতি করা
C. ঘোর শত্রুতা D. অকিঞ্চিৎকর সংগ্রহ
2. 'Ode' কী?
A. কোরাস গান B. গাথা কাহিনী C. খর কবিতা D. শোক কবিতা
3. 'অন্ধ হলে কি প্রলায় বন্ধ থাকে' - পঙ্কজির প্রমাণ-
A. সুবীন্দ্রনাথ মজ B. রবীন্দ্রনাথ ঠাকুর C. বুদ্ধদেব বসু D. জীবনানন্দ দাস
4. সঞ্জির প্রধান সুবিধা কি?
A. অসিদ্ধিত মাদুর্য সৃষ্টি B. উচ্চারণের সুবিধা
C. শব্দগত মাদুর্য সৃষ্টি D. লেখার সুবিধা
5. 'কুইনাইন' কোন ভাষার শব্দ?
A. পর্তুগিজ B. গ্রিক C. তুর্কি D. পেরু
6. 'মেঘ' এর সঠিক সমার্থক শব্দ নয় কোনটি?
A. পাদপ B. হারিদ C. অধুদ D. জলদ
7. 'আকুক্ষন' এর বিপরীত শব্দ কোনটি?
A. উত্তরণ B. বিদীর্ণ C. প্রসারণ D. অপকর্ষ
8. 'সম্পূর্ণরূপে বিবেচনা করা হয় নাই এমন' এ টিকে এক শব্দে প্রকাশ করা যায় কোন শব্দে?
A. অসমর্থিত B. অসমাপ্ত C. অসমীক্ষিত D. অসম্পূর্ণ
9. 'লৌকিক ছন্দ' কাকে বলে?
A. পদ্য ছন্দকে B. স্বরবৃত্তকে C. মাত্রাবৃত্তকে D. অক্ষরবৃত্তকে
10. 'কবিতা' পত্রিকার সম্পাদক ছিলেন-
A. বুদ্ধদেব বসু B. জ্যোত্স্ন মিত্র C. আবুল হুসেন D. আব্দুল কাদির
11. শুদ্ধ বানান নয় কোনটি?
A. গীতাঞ্জলি B. অতিথি C. কৌতুহল D. সমীচীন
12. নিত্য পুরুষবাচক শব্দ নয় কোনটি?
A. বিচারপতি B. কবিরাজ C. জমিদার D. রাষ্ট্রপতি
13. রবীন্দ্রনাথ ঠাকুর রচিত নৃত্যনাট্য কোনটি?
A. তাসের দেশ B. চণালিকা C. রক্তকরবী D. ডাকঘর
14. বিদ্বান লোক সকলের শ্রদ্ধার পাত্র। - কোন ধরনের বাক্য?
A. সরল বাক্য B. জটিল বাক্য C. যৌগিক বাক্য D. মিশ্র বাক্য
15. 'Galaxy' শব্দের বাংলা পরিভাষা -
A. গ্রহাণু B. নক্ষত্রবিধী C. তারাপুঞ্জ D. নীহারিকা
16. 'রোহিনী' কোন উপন্যাসের নায়িকা?
A. চোখের বালি B. কৃষ্ণকাজের উইল C. গৃহদাহ D. চতুরঙ্গ
17. Translate into English: লক্ষ্য কর! ওখানে পানির গভীরতা অনেক।
A. Look! The water is deep here.
B. Notice! The water is deep there.
C. The water is deep there.
D. Remember! The water is deep there.
18. স্বভাবতই 'ষ' হয়েছে নিচের কোন শব্দে?
A. মহর্ষি B. মুমূর্ষু C. আষাঢ় D. বৃষ্টি
19. নিচের কোনটি মৌলিক শব্দ নয়?
A. গোলাপ B. গায়ক C. হাত D. ফুল
20. নিচের কোনটি বিষমীভবনের উদাহরণ?
A. লাফ > ফাল B. প্রীতি > পিরীতি C. দেশি > দিশি D. লাল > নাল
21. The term ACARS is related to:
A. Airplane B. Space Shuttle C. Ship D. Bank
22. Which is the tributary of the river Padma?
A. Kopotaksha B. Tangon C. Korotoa D. Punarvaba
23. Account holder deposit is _____ for the bank.
A. an income B. a liability
C. an asset D. None of these
24. In which year, International Court of Justice was established?
A. 1949 B. 1947 C. 1945 D. 1943
25. Who is the President of European Central Bank?
A. Christine Lagarde B. Kristalina
C. David Malpass D. Von der Leyen
26. Which of the following is the largest size in the list?
A. Gigabyte B. Zettabyte C. Petabyte D. Terabyte

27. 'Ecology' is associated with _____
A. environmental economy B. green economy
C. ecological economy D. blue economy

28. What is the capital of Hebei province?
A. Wuhan B. Shijiahuang C. Guiyang D. Nanning
29. 'Mujib Year' has been decided to be celebrated jointly with _____
A. IRCICA B. UNICEF C. UNESCO D. ISESCO

30. Name of the Kobe Bryant's team was _____
A. Los Angeles Clippers B. Los Angeles Lakers
C. Boston Celtics D. Chicago Bulls

31. The word 'Robot' comes from 'Robota' meaning:
A. Artificial intelligence B. Forced labor
C. Machine under command D. Helping hand

32. Stephen Hawking was Director of research at the _____
A. National Aeronautics and Space Administration
B. National Institute of Standards and Technology
C. Royal Institute for Theory and Space
D. Centre for Theoretical Cosmology

33. The currency museum of Bangladesh was established in the year _____
A. 1997 B. 2008 C. 2009 D. 2011

34. The full meaning of "BEFTN" is:
A. Bangladesh Environmental Funds Transfer Network
B. Bangladesh Emergency Funds Transfer Network
C. Bangladesh Electronic Funds Transfer Network
D. Bangladesh Epidemic Funds Transfer Network

35. Which is the first privatized bank of Bangladesh?
A. National Bank Limited B. Standard Bank Limited
C. Uttara Bank Limited D. AB Bank Limited

36. Contact lenses are made from:
A. Polystyrene B. Polyvinyl Chloride
C. Teflon D. Lucite

37. A place for sick people who need long periods for recovery is called:
A. Asylum B. Hospital C. Sanatorium D. Clinic

38. Which of the following properties of a monitor is measured in Hertz?
A. Speed B. Resolution
C. Refresh rate D. Viewable area

39. In a computer text codes convert letters into _____
A. Graphics B. Binary format
C. Magnetic pulse D. Decimal numbers

40. In MS Word pressing Ctrl + E will:
A. Exit word B. Underline Text
C. Draw table D. Center alignment

41. There is 60% increase in an amount in 6 years at simple interest. What will be the compound interest of taka 12000 after 3 years at the same rate?
A. 6240 B. 3972 C. 3420 D. 4972

42. A system of equations is shown below:

$$\begin{aligned} x+l &= 6 \\ x-m &= 5 \\ x+p &= 4 \\ x-q &= 3 \end{aligned}$$

What is the value of $l+m+p+q$?

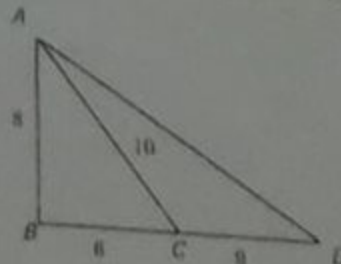
- A. 3 B. 2 C. 6 D. 5

43. What would be the measure of the perimeter of a square whose area is equal to 256 sq cm?

- A. 16 cm B. 36 cm C. 64 cm D. 256 cm

44. In the figure, if $AB=8$, $BC=6$, $AC=10$ and $CD=9$, then $AD=?$

- A. 12
B. 11
C. 13
D. 17



64
285
289

43. Mr. Ronaldo can finish a task in 20 days and Mr. Messi can do it in 30 days. With help of Mr. Salah, they did the job in 10 days only. Then, how many days are necessary to complete the task by Mr. Salah alone?

- A. 80 days B. 60 days C. 50 days D. 70 days

46. Kowshik earns taka 11 for each ticket that he sells and a bonus of taka 2 per ticket for each ticket he sells over 100. If Kowshik was paid taka 2,400, how many tickets did he sell?

- A. 200 B. 180 C. 220 D. 250

47. If $x=10$, which of the following has the minimum value?

- A. x^2 B. $2-x$ C. $2/x$ D. $(2-x)(2-x)$

48. When 4 is added to $1/2$ of a number, the result is 14. What is the number?

- A. 20 B. 21 C. 27 D. 35

49. The difference of two numbers is 11 and one-fifth of their sum is 9. Find the numbers.

- A. 28 and 16 B. 28 and 17 C. 28 and 18 D. 28 and 19

50. If $a^x = b$, $b^y = c$ and $c^z = a$, then the value of xyz is:

- A. -1 B. 1 C. $1/abc$ D. abd

51. The length of the sides of a triangle are in the ratio of 3 to 5 to 6. If the perimeter of the triangle is 70, what is the length of the longest side?

- A. 26 B. 35 C. 25 D. 30

52. How many "7" will you pass on the way when you count from 1 to 100?

- A. 18 B. 19 C. 20 D. 21

53. P sells a product to Q and makes a profit of 25%. Q sells it to R at a loss of 20%. If R buys it for Tk. 140, what price did P pay for it?

- A. 211 B. 169 C. 140 D. 139

54. A garden of 100 meter length and 60 meter width has a walkway of 2 meter width on every side. What is the area of the garden, in square meters, excluding the walkway?

- A. 5376 B. 5576 C. 2556 D. 7874

55. Which one is true for the mathematical expression $\frac{2^{2n} + 2^{2n-1}}{2^{2n+1} - 2}$?

- A. $\frac{3}{2}$ B. $\frac{2}{3}$ C. 1 D. 2^{30}

56. $2^{30} + 2^{30} + 2^{30} + 2^{30} = ?$

- A. 8^{120} B. 8^{30} C. 2^{120} D. 2^{30}

57. 40% of 200 is what percent of 160?

- A. 20 B. 80 C. 60 D. 50

58. What is the value of 'n' if $(8-3)(8-n)=40$?

- A. -3 B. 8 C. 0 D. -5

59. If $\frac{1}{y} = 3\frac{1}{2}$ then $\frac{1}{y+2} = ?$

- A. $\frac{7}{16}$ B. $\frac{2}{7}$ C. $\frac{2}{11}$ D. $\frac{2}{16}$

60. Mr. X lost a wallet containing Tk. 120. Incidentally, he had only notes of Tk. 2, Tk. 3 and Tk. 5 denominations in the wallet. If the total number of notes was 30, how many Tk. 5 denomination notes did he have?

- A. 15 B. 16 C. 18 D. 20

61. The world leaders are not indifferent _____ the spreading of Corona virus across the world. Fill in the blank with an appropriate preposition for this sentence from the following:

- A. of B. to C. with D. for

62. Choose the correct sentence:

- A. What is your pretext for opposing me?
B. What is your pretext of opposing me?
C. What is your pretext at opposing me?
D. What is your pretext to opposing me?

63. 'The' article is used before:

- A. China B. Indonesia C. Malaysia D. Philippines

64. Antonym of the word 'resolute' is:

- A. persevering B. steadfast C. unyielding D. vacillating

65. The question tag of 'Let's go out for a walk' is:

- A. Shall we? B. Shan't we? C. Let we? D. Let not we?

66. He refused to attend the meeting _____ his illness.

- A. on part of B. on point of C. on the ground of D. with a view to

67. What is the meaning of the phrase 'carry the day'?

- A. busy all day B. free all day C. win D. loss

68. The word 'urbane' is related to:

- A. city life B. manners C. village life D. slum dwellers

69. Etymology is a branch of:

- A. Economics B. linguistics C. statistics D. history

70. Epigram is a short poem that does not exceed more than:

- A. six lines B. eight lines C. twelve lines D. fourteen lines

71. Who is the author of 'Pride and Prejudice'?

- A. Jane Austen B. Bernard Shaw C. John Milton D. George Orwell

72. Who wrote "Ode to Psyche"?

- A. Lord Byron B. John Keats C. Shakespeare D. William Wordsworth

73. The show this weekend promises to attract _____ than the last one.

- A. an even greater amount of people
B. an ever larger amount of people
C. an even greater number of people
D. a number of people even larger

74. Man is still a _____ in the labour market.

- A. glut B. possibility C. Commodity D. provision

75. _____ is it difficult _____ dispose _____ waste?

- A. Where, to, for
B. Why, with, in
C. Why, to, of
D. When, for, such

76. Choose the correct sentence:

- A. There is an affinity two languages.
B. I still adhere with my plan.
C. He is alarmed for any safety.
D. The meeting was adjourned for a week.

77. The miscreants must be found and tried as this has gone beyond the usual _____ that can happen in school.

- A. Shenanigans B. Wreckage C. Vandalism D. Sabotage

78. Translate into English: 'সে কি এ খবরটা পেয়ে থাকবে?'

- A. Would this news get by him?
B. Will he have got this news?
C. Will he got this news?
D. Would this news got by him?

79. If the bus to the airport hadn't been so late, we _____ the plane.

- A. had caught B. would catch C. can catch D. would have caught

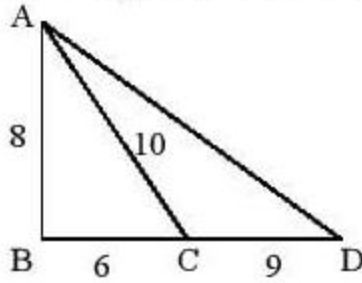
80. The comparative degree of the word 'Prettiest' is:

- A. Prettier B. Pretier C. Prettier D. Pretty

1 Janata Bank (Officer- Cash)- 2020

31.10.2020

1. 'সাত ঘাটের কানাকড়ি' ধ্বাদ ধ্বচন অর্থ কি?
 (a) কম্পট মমতা (b) বড় ধরণের ক্ষতি করা
 (c) ঘোর শত্রুতা (d) অকিঞ্চিৎকর সংগ্রহ **(d)**
2. 'Ode' কী?
 (a) কোরাস গান (b) গাথা কাহিনী
 (c) খণ্ড কবিতা (d) শোক কবিতা **(a)**
3. 'অন্ধ হলে কি থলয় বন্ধ থাকে' – পঞ্জিটির স্রষ্টা?
 (a) সুধীন্দ্রনাথ দত্ত (b) রবীন্দ্রনাথ ঠাকুর
 (c) বুদ্ধদেব বসু (d) জীবনানন্দ দাশ **(a)**
4. সন্ধির প্রধান সুবিধা কি?
 (a) ধ্বনিগত মাধুর্য সৃষ্টি (b) উচ্চারণের সুবিধা
 (c) শব্দগত মাধুর্য সৃষ্টি (d) লেখার সুবিধা **(b)**
5. 'কুইনাইন' কোন ভাষার শব্দ?
 (a) পর্তুগিজ (b) গ্রিক (c) তুর্কি (d) পেরু **(d)**
6. 'মেঘ' এর সঠিক সমার্থক শব্দ নয় কোনটি?
 (a) পাদপ (b) বারিদ (c) অম্বুদ (d) জলদ **(a)**
7. 'আকুঞ্চন' এর বিপরীত শব্দ—
 (a) উত্তরণ (b) বিদীর্ণ (c) প্রসারণ (d) অপকর্ষ **(c)**
8. 'সম্পূর্ণরূপে বিবেচনা করা হয় নাই এমন' এটিকে এক শব্দে প্রকাশ করা যায় কোন শব্দে?
 (a) অসমর্থিত (b) অসমাপ্ত (c) অসমীক্ষিত (d) অসম্পূর্ণ **(c)**
9. 'লৌকিক ছন্দ' কাকে বলে?
 (a) পদ্য ছন্দকে (b) স্বরবৃত্তকে
 (c) মাত্রাবৃত্তকে (d) অক্ষরবৃত্তকে **(b)**
10. 'কবিতা' পত্রিকার সম্পাদক কে?
 (a) বুদ্ধদেব বসু (b) প্রেমেন্দ্র মিত্র
 (c) আবুল হুসেন (d) আব্দুল কাদির **(a)**
11. শুদ্ধ বানান নয় কোনটি?
 (a) গীতাজলি (b) অতিথি (c) কৌতুহল (d) সমীচীন **(c)**
12. নিত্য পুরুষবাচক শব্দ নয় কোনটি?
 (a) বিচারপতি (b) কবিরাজ (c) জমিদার (d) রাষ্ট্রপতি **(c)**
13. রবীন্দ্রনাথ ঠাকুর রচিত নৃত্যনাট্য কোনটি?
 (a) তাসের দেশ (b) চঞ্জলিকা
 (c) রক্তকরবী (d) ডাকঘর **(b)**
14. 'বিদ্বান লোক সকলের শ্রদ্ধার পাত্র' এটি কোন ধরণের বাক্য?
 (a) সরল বাক্য (b) জটিল বাক্য
 (c) যৌগিক বাক্য (d) মিশ্রবাক্য **(a)**
15. 'Galaxy' শব্দের বাংলা পরিভাষা—
 (a) গ্রহানু (b) নক্ষত্র বিধি
 (c) তারাপুঞ্জ (d) নীহারিকা **(b)**
16. 'রোহিনী' কোন উপন্যাসের নায়িকা?
 (a) চোখের বালি (b) কৃষ্ণকান্তের উইল
 (c) গৃহদাহ (d) চতুরঙ্গ **(b)**
17. স্বভবতাই 'ষ' হয়েছে নিচের কোন শব্দে?
 (a) মহর্ষি (b) মুমূর্ষু (c) আষাঢ় (d) বৃষ্টি **(c)**
18. নিচের কোনটি মৌলিক শব্দ নয়?
 (a) গোলাপ (b) গায়ক (c) হাত (d) ফুল **(b)**
19. নিচের কোনটি বিষমীভবনের উদাহরণ?
 (a) লাফ > ফাল (b) প্রীতি > পিরীতি
 (c) দেশী > দিশি (d) লাল > নাল **(d)**
20. Translate into English : লক্ষ্য কর : ওখানে পানির গভীরতা অনেক?
 (a) Look! the water is deep here
 (b) Notice! the water is deep there
 (c) The water is deep there
 (d) Remember! the water is deep there **(b)**
21. The term ACARS is related to :
 (a) Airplane (b) Space Shuttle
 (c) Ship (d) Bank **(a)**
22. Which is the tributary of the river Padma?
 (a) Kopotaksha (b) Tangon
 (c) Korotoa (d) Punarvaba **(d)**
23. Account holder deposit is — for the bank.
 (a) an income (b) a liability
 (c) an asset (d) None of these **(b)**
24. In which year, International Court of Justice was established?
 (a) 1949 (b) 1947 (c) 1945 (d) 1943 **(c)**
25. Who is the President of European Central Bank?
 (a) Christine Lagarde (b) Kristalina
 (c) David Malpass (d) Von der Leyen **(a)**
26. Which of the following is the largest size in the list?
 (a) Gigabyte (b) Zettabyte
 (c) Petabyte (d) Terabyte **(b)**
27. 'Ecolonomy' is associated with —.
 (a) environmental economy
 (b) green economy
 (c) ecological economy
 (d) blue economy **(b)**
28. What is the capital of Hubei province?
 (a) Wuhan (b) Shijiahuang
 (c) Gulyang (d) Nanning **(b)**
29. 'Mujib Year' has been decided to be celebrated jointly with —.
 (a) IRCICA (b) UNICEF
 (c) UNESCO (d) ISESCO **(c)**
30. Name of the kobe Bryant's term was —.
 (a) Los Angeles Clippers
 (b) Los Angeles Lakers
 (c) Boston Celtics (d) Chicago Bulls **(b)**

31. The word 'Robot' comes from 'Robota' meaning :
 (a) Artificial intelligence
 (b) Forced labor
 (c) Machine under command
 (d) Helping hand **(a)**
32. Stephen Hawking was Director of research at the —.
 (a) National Aeronautics and Space Administration
 (b) National Institute of Standards and Technology
 (c) Royal Institute for Theory and Space
 (d) Centre for Theoretical Cosmology **(d)**
33. The currency museum of Bangladesh was established in the year —.
 (a) 1997 (b) 2008 (c) 2009 (d) 2011 **(c)**
34. The full meaning of "BEFTN" is :
 (a) Bangladesh Environmental Funds Transfer Network
 (b) Bangladesh Emergency Funds Transfer Network
 (c) Bangladesh Electronic Funds Transfer Network
 (d) Bangladesh Epidemic Funds Transfer Network **(c)**
35. Which is the first privatized bank of Bangladesh?
 (a) National Bank Limited
 (b) Standard Bank Limited
 (c) Uttara Bank Limited
 (d) AB Bank Limited **(d)**
36. Contact lenses are made from :
 (a) Polystyrene (b) Polyvinyl Chloride
 (c) Teflon (d) Lucite **(b)**
37. A place for sick people who need long periods for recovery is called :
 (a) Asylum (b) Hospital
 (c) Sanatorium (d) Clinic **(c)**
38. Which of the following properties of a monitor is measured in Hertz?
 (a) Speed (b) Resolution
 (c) Refresh rate (d) Viewable area **(c)**
39. In a computer text codes convert letters into —.
 (a) Graphics (b) Binary format
 (c) Magnetic pulse (d) Decimal numbers **(b)**
40. In MS Word pressing Ctrl + E will :
 (a) Exit word (b) Underline Text
 (c) Draw table (d) Center alignment **(d)**
41. There is 60% increase in an amount in 6 years at simple interest. What will be the compound interest of taka 12000 after 3 years at the same rate?
 (a) 6240 (b) 3972 (c) 3420 (d) 4972 **(b)**
42. A system of equations is show below :
 $x + l = 6$; $x - m = 5$; $x + p = 4$; $x - q = 3$
 What is the value of $l + m + p + q$?
 (a) 3 (b) 2 (c) 6 (d) 5 **(b)**
43. What would be the measure of the perimeter of a square whose area is equal to 256 sq cm?
 (a) 16 cm (b) 36 cm (c) 64 cm (d) 256 cm **(c)**
44. In the figure, if $AB = 8$, $bc = 6$, $AC = 10$ and $CD = 9$, then $AD = ?$
- 
- (a) 12 (b) 11 (c) 13 (d) 17 **(d)**
45. Mr. Ronaldo can finish a task in 20 days and Mr. Messi can do it in 30 days. With help of Mr. Salah, they did the job in 10 days only. Then how many days are necessary to complete the task by Mr. Salah alone?
 (a) 80 days (b) 60 days
 (c) 50 days (d) 70 days **(b)**
46. Kowshik earns taka 11 for each ticket that he sells and a bonus of taka 2 per ticket for each ticket he sells over 100. If Kowshik was paid taka 2400, how many tickets did he sell?
 (a) 200 (b) 180 (c) 220 (d) 250 **(a)**
47. If $x = 10$, which of the following has the minimum value?
 (a) $\frac{x}{2}$ (b) $2 - x$ (c) $\frac{2}{x}$ (d) $\frac{(2-x)}{(2-x)}$ **(b)**
48. When 4 is added to $\frac{1}{2}$ of a number, the result is 14. What is the number?
 (a) 20 (b) 21 (c) 27 (d) 35 **(a)**
49. The difference of two numbers is 11 and one-fifth of their sum is 9. Find the numbers.
 (a) 28 and 16 (b) 28 and 17
 (c) 28 and 18 (d) 28 and 19 **(b)**
50. If $a^x = b$, $b^y = c$ and $c^z = a$, then value of xyz is?
 (a) -1 (b) 1 (c) $\frac{1}{abc}$ (d) abd **(b)**
51. The length of the sides of a triangle are in the ratio of 3 to 5 to 6. If the perimeter of the triangle is 70, what is the length of the longest side?
 (a) 26 (b) 35 (c) 25 (d) 30 **(d)**
52. How many "7" will you pass on the way when you count from 1 to 100?
 (a) 18 (b) 19 (c) 20 (d) 21 **(c)**
53. P sells a product to Q and makes a profit of 25%. Q sells it to R at a loss of 20%. If R buys it for Tk. 140, what price did P pay for it?
 (a) 211 (b) 169 (c) 140 (d) 139 **(c)**

54. A garden of 100 meter length and 60 meter width has a walkway of 2 meter width on every side. What is the area of the garden, in square meters, excluding the walkway?
 (a) 5376 (b) 5576 (c) 2556 (d) 7874 **(a)**
55. Which one is true for the mathematical expression $\frac{2^n + 2^{n-1}}{2^{n+1} - 2}$?
 (a) $\frac{3}{2}$ (b) $\frac{2}{3}$ (c) 1 (d) 2^{30} **(b)**
56. $2^{30} + 2^{30} + 2^{30} + 2^{30} = ?$
 (a) 8^{120} (b) 8^{30} (c) 2^{32} (d) 2^{30} **(c)**
57. 40% of 200 is what percent of 160?
 (a) 20 (b) 80 (c) 60 (d) 50 **(d)**
58. What is the value of 'n' if $(8 - 3)(8 - n) = 40$?
 (a) -3 (b) 8 (c) 0 (d) -5 **(c)**
59. If $\frac{1}{y} = 3\frac{1}{z}$ then $\frac{1}{y+z} = ?$
 (a) $\frac{7}{16}$ (b) $\frac{2}{7}$ (c) $\frac{2}{11}$ (d) $\frac{2}{16}$ **(a)**
60. Mr. X lost a wallet containing Tk. 120. Incidentally, he had only notes of Tk. 2, Tk. 3 and Tk. 5 denominations in the wallet. If the total number of notes was 30, how many Tk. 5 denomination notes did he has?
 (a) 15 (b) 16 (c) 18 (d) 20 **(b)**
61. The world leaders are not indifferent — the spreading of Corona Virus across the world. Fill in the blank with an appropriate preposition for this sentence from the following:
 (a) of (b) to (c) with (d) for **(b)**
62. Choose the correct sentence:
 (a) What is your pretext for opposing me?
 (b) What is your pretext of opposing me?
 (c) What is your pretext at opposing me?
 (d) What is your pretext to opposing me? **(a)**
63. 'The' article is used before:
 (a) China (b) Indonesia
 (c) Malaysia (d) Philippines **(d)**
64. Antonym of the word 'resolute' is:
 (a) persevering (b) steadfast
 (c) unyielding (d) vacillating **(d)**
65. The question tag of 'Let's go out for a walk' is:
 (a) Shall we? (b) Shan't we?
 (c) Let we? (d) Let not we? **(a)**
66. He refused to attend the meeting — his illness.
 (a) on part of (b) on point of
 (c) on the ground of (d) with a view to **(c)**
67. What is the meaning of the phrase 'carry the day'?
 (a) busy all day (b) free all day
 (c) win (d) loss **(c)**
68. The word 'urbane' is related to;
 (a) City life (b) manners
 (c) village life (d) slum dwellers **(b)**
69. Etymology is a branch of:
 (a) Economics (b) linguistics
 (c) statistics (d) history **(b)**
70. Epigram is a short poem that does not exceed more than:
 (a) six lines (b) eight lines
 (c) twelve lines (d) fourteen lines **(a)**
71. Who is the author of 'Pride and Prejudice'?
 (a) Jane Austen (b) Bernard Shaw
 (c) John Milton (d) George Orwell **(a)**
72. Who wrote "Ode to Psyche"?
 (a) Lord Byron (b) John Keats
 (c) Shakespeare (d) William Wordsworth **(b)**
73. The show this weekend promises to attract — than the last one.
 (a) an even greater amount of people
 (b) an ever larger amount of people
 (c) an even greater number of people
 (d) a number of people even larger **(c)**
74. Man is still a — in the labour market.
 (a) glut (b) possibility
 (c) Commodity (d) provision **(a)**
75. — is it difficult — dispose — waste?
 (a) Where, to, for (b) Why, with, in
 (c) Why, to, of (d) When, for, such **(c)**
76. Choose the correct sentence:
 (a) There is an affinity two languages.
 (b) I still adhere with my plan.
 (c) He is alarmed for any safety.
 (d) The meeting was adjourned for a week. **(d)**
77. The miscreants must be found and tried as this has gone beyond the usual — that can happen in school.
 (a) Shenanigans (b) Wreckage
 (c) Vandalism (d) Sabotage **(c)**
78. Translate into English: 'সে কি এ খবরটা পেয়ে থাকবে?'
 (a) Would this news get by him?
 (b) Will he have got this news?
 (c) Will he got this news?
 (d) Would this news got by him? **(b)**
79. If the bus to the airport hadn't been so late, we — the plane.
 (a) had caught (b) would catch
 (c) can catch (d) would have caught **(d)**
80. The comparative degree of the word 'Prettiest' is:
 (a) Prettyer (b) Pretier
 (c) Prettier (d) Pretty **(c)**

জনতা ব্যাংক

পদের নাম: অফিসার (ক্যাশ)

পরীক্ষার তারিখ: ৩১/১০/২০২০ ইং

১. 'সাত ঘাটের কানাকড়ি' প্রবাদ প্রবচন অর্থ কি?

- A. কপট মমতা B. বড় ধরনের ক্ষতি করা
C. ঘোর শত্রুতা D. অকিঞ্চিৎকর সংগ্রহ

উত্তর: D. অকিঞ্চিৎকর সংগ্রহ; তবে সঠিক উত্তর হবে - সর্বসাকুল্যে মোট ধন (ATM পৃষ্ঠা ৩৪৪)

২. 'Ode' কী?

- A. কোরাস গান B. গাথা কাহিনী
C. খণ্ড কবিতা D. শোক কবিতা

উত্তর: A. কোরাস গান (অভিযাত্রী পৃষ্ঠা ৩৬৬)

৩. 'অন্ধ হলে কি প্রলয় বন্ধ থাকে' - পঙ্কজিটির স্রষ্টা?

- A. সুধীন্দ্রনাথ দত্ত B. রবীন্দ্রনাথ ঠাকুর
C. বুদ্ধদেব বসু D. জীবানন্দ দাশ

উত্তর: A. সুধীন্দ্রনাথ দত্ত

৪. সন্ধির প্রধান সুবিধা কি?

- A. ধনিগত মাধুর্য সৃষ্টি B. উচ্চারণের সুবিধা
C. শব্দগত মাধুর্য সৃষ্টি D. লেখার সুবিধা

উত্তর: B. উচ্চারণের সুবিধা (অভিযাত্রী পৃষ্ঠা ৪৬)

৫. 'কুইনাইন' কোন ভাষার শব্দ?

- A. পর্তুগিজ B. গ্রিক
C. তুর্কি D. পেরু

উত্তর: D. পেরু (ম্যালেরিয়া রোগের প্রতিষেধক)

৬. 'মেঘ' এর সঠিক সমার্থক শব্দ নয় কোনটি?

- A. পাদপ B. বারিদ
C. অম্বুদ D. জলদ

উত্তর: A. পাদপ (ATM পৃষ্ঠা ২৬৮)

৭. 'আকুঞ্চন' এর বিপরীত শব্দ-

- A. উত্তরণ B. বিদীর্ণ
C. প্রসারণ D. অপকর্ষ

উত্তর: C. প্রসারণ (ATM পৃষ্ঠা ৩০১)

৮. 'সম্পূর্ণরূপে বিবেচনা করা হয় নাই এমন' এটিকে এক শব্দে প্রকাশ করা যায় কোন শব্দে?

- A. অসমর্থিত B. অসমাপ্ত
C. অসমীক্ষিত D. অসম্পূর্ণ

উত্তর: C. অসমীক্ষিত (ATM পৃষ্ঠা ২৬৮)

৯. 'লৌকিক ছন্দ' কাকে বলে?

- A. গদ্য ছন্দকে B. স্বরবৃত্তকে
C. মাত্রাবৃত্তকে D. অক্ষরবৃত্তকে

উত্তর: B. স্বরবৃত্তকে এন্ড্রয়েড অ্যাপ - জব সার্কুলার

১০. 'কবিতা' পত্রিকার সম্পাদক কে?

- A. বুদ্ধদেব বসু B. প্রেমেন্দ্র মিত্র
C. আবুল হোসেন D. আব্দুল কাদির

উত্তর: A. বুদ্ধদেব বসু (অভিযাত্রী পৃষ্ঠা ৩১৬)

১১. শুদ্ধ বানান নয় কোনটি?

- A. গীতাজলি B. অতিথি
C. কৌতুহল D. সমীচীন

উত্তর: C. কৌতুহল (অভিযাত্রী পৃষ্ঠা ২৩৫)

১২. নিত্য পুরুষবাচক শব্দ নয় কোনটি?

- A. বিচারপতি B. কবিরাজ
C. জমিদার D. রত্নপতি

উত্তর: C. জমিদার (অভিযাত্রী পৃষ্ঠা ৭৯)

১৩. রবীন্দ্রনাথ ঠাকুর রচিত নৃত্যানাট্য কোনটি?

- A. তাসের দেশ B. চণ্ডালিকা
C. রক্তকরবী D. ডাকঘর

উত্তর: B. চণ্ডালিকা (অভিযাত্রী পৃষ্ঠা ৪৩১)

১৪. 'বিদ্বান লোক সকলের শ্রদ্ধার পাত্র' এটি কোন ধরনের বাক্য?

- A. সরল বাক্য B. জটিল বাক্য
C. যৌগিক বাক্য D. মিশ্র বাক্য

উত্তর: A. সরল বাক্য (অভিযাত্রী পৃষ্ঠা ২২২)

১৫. 'Galaxy' শব্দের বাংলা পরিভাষা-

- A. গ্রহাণু B. নক্ষত্র বীথি
C. তারাপুঞ্জ D. নীহারিকা

উত্তর: B. নক্ষত্র বীথি; তবে সঠিক উত্তর হবে: ছায়াপথ (ATM পৃষ্ঠা ১১৭)

১৬. 'রোহিনী' কোন উপন্যাসের নায়িকা?

- A. চোখের বালি B. কৃষ্ণকান্তের উইল
C. গৃহদাহ D. চতুরঙ্গ

উত্তর: B. কৃষ্ণকান্তের উইল (অভিযাত্রী পৃষ্ঠা ৩৭৬)

১৭. স্বভাবতই 'খ' হয়েছে নিচের কোন শব্দে?

- A. মহর্ষি B. মুমূর্ষু
C. আষাঢ় D. বৃষ্টি

উত্তর: C. আষাঢ় (অভিযাত্রী পৃষ্ঠা ৪৩)

১৮. নিচের কোনটি মৌলিক শব্দ নয়?

- A. গোলাপ B. গায়ক
C. হাত D. ফুল

উত্তর: B. গায়ক (অভিযাত্রী পৃষ্ঠা ৬৮)

১৯. নিচের কোনটি বিষমীভবনের উদাহরণ?

- A. লাফ > ফাল B. প্রীতি > পিরীতি
C. দেশি > দিশি D. লাল > নাল

উত্তর: D. লাল > নাল (অভিযাত্রী পৃষ্ঠা ৩৯)

প্রশ্ন অস্পষ্ট থাকার কারণে প্রশ্নের অনেক অপশন ভালোভাবে দেয়া যায় নি।

উপরের উত্তরগুলো অভিযাত্রী ও ATM (এক টানা মুখস্থ) থেকে সংগৃহীত। নিয়মিত পড়া-শোনার কোন বিকল্প নেই। এখন পড়া-লেখা অবহেলা করলে এক সময় পড়া-লেখাই আপনাকে অবহেলা করবে। সময়কে মূল্যায়ন করুন, আপনি যথাসময়ে মূল্যায়িত হবেন।

জনতা ব্যাংক

পদের নাম: অফিসার (ক্যাশ)

সময়: ১ ঘণ্টা

পূর্ণমান: ১০০

১. 'সাত ঘাটের কানাকড়ি' প্রবাদ-প্রবচনটির অর্থ কী?
ক. কপট মমতা খ. বড় রকমের ক্ষতি করা গ. ঘোর শত্রুতা ঘ. অকিঞ্চিৎকর সংগ্রহ উ. ঘ
২. Ode কী
ক. কোরাস গান খ. গাথা কাহিনী গ. খণ্ড কবিতা ঘ. শোক কবিতা উ. ক পৃষ্ঠা: ৬১
৩. 'অন্ধ হলে কি প্রলয় বন্ধ থাকে'- পঙ্ক্তিটির স্রষ্টা-
ক. সুবীন্দ্রনাথ দত্ত খ. রবীন্দ্রনাথ ঠাকুর গ. বুদ্ধদেব বসু ঘ. জীবনানন্দ দাশ উ. ক পৃষ্ঠা: ১৯৭
৪. সন্ধির প্রধান সুবিধা কী?
ক. ধ্বনিগত মাধুর্য সৃষ্টি খ. উচ্চারণের সুবিধা গ. শব্দগত মাধুর্য সৃষ্টি ঘ. লেখার সুবিধা উ. খ পৃষ্ঠা: ৩২৩
৫. 'কুইনাইন' কোন ভাষার শব্দ?
ক. পর্তুগিজ খ. গ্রিক গ. তুর্কি ঘ. পেরু উ. ঘ পৃষ্ঠা: ৩৮৬
৬. 'মেঘ' এর সঠিক সমার্থক শব্দ নয় কোনটি?
ক. পাদপ খ. বারিদ গ. অমুদ ঘ. জলদ উ. ক পৃষ্ঠা: ৩৯৯
৭. 'আকুঞ্চন' এর বিপরীত শব্দ কোনটি?
ক. উত্তরণ খ. বিদীর্ণ গ. প্রসারণ ঘ. অপকর্ষ উ. গ পৃষ্ঠা: ৪১৪
৮. 'সম্পূর্ণরূপে বিবেচনা করা হয় নাই এমন' এ টিকে এক শব্দে প্রকাশ করা যায় কোন শব্দে?
ক. অসমর্থিত খ. অসমাপ্ত গ. অসমীক্ষিত ঘ. অসম্পূর্ণ উ. গ পৃষ্ঠা: ৪৮১
৯. 'লৌকিক ছন্দ' কাকে বলে?
ক. পদ্য ছন্দকে খ. স্বরবৃত্তকে গ. মাত্রাবৃত্তকে ঘ. অক্ষরবৃত্তকে উ. খ পৃষ্ঠা: ৫৩১
১০. 'কবিতা' পত্রিকার সম্পাদক ছিলেন-
ক. বুদ্ধদেব বসু খ. প্রেমেন্দ্র মিত্র গ. আবুল হসেন ঘ. আব্দুল কাদির উ. ক পৃষ্ঠা: ৮১
১১. শুদ্ধ বানান নয় কোনটি?
ক. গীতাঞ্জলি খ. অতিথি গ. কৌতুহল ঘ. সমীচীন উ. গ পৃষ্ঠা: ৩০৪
১২. নিত্য পুরুষবাচক শব্দ নয় কোনটি?
ক. বিচারপতি খ. কবিরাজ গ. জমিদার ঘ. রাষ্ট্রপতি উ. গ পৃষ্ঠা: ৩৩৬
১৩. রবীন্দ্রনাথ ঠাকুর রচিত নৃত্যনাট্য কোনটি?
ক. তাসের দেশ খ. চণ্ডালিকা গ. রক্তকরবী ঘ. ডাকঘর উ. খ পৃষ্ঠা: ১৪৪
১৪. বিদ্বান লোক সকলের শ্রদ্ধার পাত্র।- কোন ধরনের বাক্য?
ক. সরল বাক্য খ. জটিল বাক্য গ. যৌগিক বাক্য ঘ. মিশ্র বাক্য উ. ক পৃষ্ঠা: ৪৬১
১৫. 'Galaxy' শব্দের বাংলা পরিভাষা-
ক. গ্রহানু খ. নক্ষত্রবিধী (ছায়াপথ) গ. তারাপুঞ্জ ঘ. নীহারিকা উ. খ পৃষ্ঠা: ২৭৬
১৬. 'রোহিণী' কোন উপন্যাসের নায়িকা?
ক. চোখের বালি খ. কৃষ্ণকান্তের উইল গ. গৃহদাহ ঘ. চতুরঙ্গ উ. খ পৃষ্ঠা: ৬৯
১৭. Translate into English: লক্ষ্য কর! ওখানে পানির গভীরতা অনেক।
ক. Look! The water is deep here. খ. Notice! The water is deep there.
গ. The water is deep there. ঘ. Remember! The water is deep there. উ. খ
১৮. স্বভাবতই 'ষ' হয়েছে নিচের কোন শব্দে?
ক. মহর্ষি খ. মুমূর্ষু গ. আঘাট ঘ. বৃষ্টি উ. গ পৃষ্ঠা: ৩০১
১৯. নিচের কোনটি মৌলিক শব্দ নয়?
ক. গোলাপ খ. গায়ক গ. হাত ঘ. ফুল উ. খ পৃষ্ঠা: ৩৮৩

২০. নিচের কোনটি বিষমীভবনের উদাহরণ?

ক. লাভ > ফাল খ. প্রীতি > পিরীতি গ. দেশি > দিশি ঘ. লাল > নালা উ. ঘ পৃষ্ঠা: ২৯৭

১-২০ নম্বর প্রশ্নের সমাধান 'অগ্রদূত বাংলা' থেকে নেয়া। উল্লিখিত পৃষ্ঠা নম্বর ৮ম সংস্করণের।

২১. The term ACARS is related to:

ক. Airplane খ. Space Shuttle গ. Ship ঘ. Bank উ. ক

২২. Which is the tributary of the river Padma?

ক. Kopotaksha খ. Tangon গ. Korotoa ঘ. Punarvaba উ. ঘ

২৩. Account holder deposit is for the bank.

ক. an income খ. a liability গ. an asset ঘ. None of these উ. খ

২৪. In which year, International Court of Justice was established?

ক. 1949 খ. 1947 গ. 1945 ঘ. 1943 উ. গ

২৫. Who is the President of European Central Bank?

ক. Christine Lagarde খ. Kristalina গ. David Malpass ঘ. Von der Leyen উ. ক

২৬. Which of the following is the largest size in the list?

ক. Gigabyte খ. Zettabyte গ. Petabyte ঘ. Terabyte উ. খ

২৭. 'Ecolonomy' is associated with.....

ক. environmental economy খ. green economy
গ. ecological economy ঘ. blue economy উ. খ

২৮. What is the capital of Hubei province? www.prebd.com

ক. Wuhan খ. Shijiazhuang গ. Guiyang ঘ. Nanning উ. খ

২৯. 'Mujib Year' has been decided to be celebrated jointly with.....

ক. IRCICA খ. UNICEF গ. UNESCO ঘ. ISESCO উ. গ

৩০. Name of the Kobe Bryant's team was.....

ক. Los Angeles Clippers খ. Los Angeles Lakers
গ. Boston Celtics ঘ. Chicago Bulls উ. খ

৩১. The word 'Robot' comes from 'Robota' meaning?

ক. Artificial intelligence খ. Forced labor
গ. Machine under command ঘ. Helping hand উ. ক

৩২. Stephen Hawking was director of research at the

ক. National Aeronautics and Space Administration
খ. National Institute of Standards and Technology
গ. Royal Institute for Theory and Space
ঘ. Centre for Theoretical Cosmology উ. ঘ

৩৩. The currency museum of Bangladesh was established in the year.....

ক. 1997 খ. 2008 গ. 2009 ঘ. 2011 উ. গ

৩৪. The full meaning of 'BEFTN' is

ক. Bangladesh Environmental Funds Transfer Network.
খ. Bangladesh Emergency Funds Transfer Network.
গ. Bangladesh Electronic Funds Transfer Network.
ঘ. Bangladesh Epidemic Funds Transfer Network. উ. গ

৩৫. Which is the first privatized bank of Bangladesh?

ক. National Bank Limited খ. Standard Bank Limited
গ. Uttara Bank Limited ঘ. AB Bank Limited উ. ঘ

প্রতি মাসের ১-৩০ তারিখ পর্যন্ত সংঘটিত দেশ-বিদেশের ঘটনাবলির বিস্তারিত জানতে পড়ুন- 'অগ্রদূত মাসিক পরিক্রমা'

৩৬. Contact lenses are made from:

- ক. Polystyrene খ. Polyvinyl Chloride গ. Teflon ঘ. Lucite উ. খ

৩৭. A place for sick people who need long periods for recovery is called:

- ক. Asylum খ. Hospital গ. Sanatorium ঘ. Clinic উ. গ

৩৮. Which of the following properties of a monitor is measured in Hertz?

- ক. Speed খ. Resolution গ. Refresh rate ঘ. Viewable area উ. গ

৩৯. In a computer text codes convert letters into.....

- ক. Graphics খ. Binary format গ. Magnetic pulse ঘ. Decimal Numbers উ. খ

৪০. In MS Word pressing Ctrl + E will:

- ক. Exit word খ. Underline Text গ. Draw table ঘ. Center Alignment উ. ঘ

৪১. There is 60% increase in an amount in 6 years at simple interest. What will be the compound interest of taka 12000 after 3 years at the same rate? www.prebd.com

- ক. 6240 খ. 3972 গ. 3420 ঘ. 4972 উ. খ

৪২. A system of equations is shown below:

$$x + l = 6$$

$$x - m = 5$$

$$x + p = 4$$

$$x - q = 3$$

What is the value of $l + m + p + q$?

- ক. 3 খ. 2 গ. 6 ঘ. 5 উ. খ

৪৩. What would be the measure of the perimeter of a square whose area is equal to 256 sq cm?

- ক. 16 cm খ. 36 cm গ. 64 cm ঘ. 256 cm উ. গ

৪৪. In the figure, if $AB = 8$, $BC = 6$, $AC = 10$ and $CD = 9$, then $AD = ?$

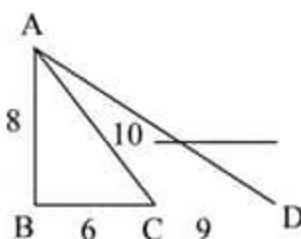
ক. 12

খ. 11

গ. 13

ঘ. 17

উ. ঘ



৪৫. Mr. R can finish a Task in 20 days and Mr. M can do in 30 days. With help of Mr. Salah, they did the job in 10 days only. Then how many days are necessary to complete the task by Mr. Salah?

- ক. 80 days খ. 60 days গ. 50 days ঘ. 70 days উ. খ

৪৬. Kowshik earns take 11 for each ticket that he sells and a bonus of taka 2 per ticket for each ticket he sells Over 100. Kowshik was paid take 2400, how many ticket did he sell?

- ক. 200 খ. 180 গ. 220 ঘ. 250 উ. ক

৪৭. If $x = 10$ which of the following has the minimum value?

- ক. $x/2$ খ. $2-x$ গ. $2/x$ ঘ. $(2-x)(2-x)$ উ. খ

৪৮. When 4 is added to $\frac{1}{2}$ of a number, the result is 14. What is the number?

- ক. 20 খ. 21 গ. 27 ঘ. 35 উ. ক

৪৯. The difference of two numbers is 11 and one-fifth of their sum is 9 Find the numbers.

- ক. 28 and 16 খ. 28 and 17 গ. 28 and 18 ঘ. 28 and 19 উ. খ

৫০. If $a^x = b$, $b^y = c$ and $c^z = a$; then the value of xyz is:

- ক. -1 খ. 1 গ. $1/abc$ ঘ. abd উ. খ

৫১. The length of the sides of a triangle are in the ratio of 3 to 5 to 6. If the perimeter of the triangle is 70, what is the length of the longest side?

- ক. 26 খ. 35 গ. 25 ঘ. 30 উ. ঘ

৫২. How many "7" will you pass on the way when you count from 1 to 100?

- ক. 18 খ. 19 গ. 20 ঘ. 21 উ. গ

৫৩. P sells a product to Q and makes a profit of 25%. Q sells it to R at a loss of 20%. If R buys it for Tk. 140, what price did P pay for it?

- ক. 211 খ. 169 গ. 140 ঘ. 139 উ. গ

৫৪. A garden of 100 meter length and 60 meter width has a walkway of 2 meter width on every side. What is the area of the garden, in square meters, excluding the walkway?

- ক. 5376 খ. 5576 গ. 2556 ঘ. 7874 উ. ক

৫৫. Which one is true for the mathematical expression $\frac{2^n + 2^{n-1}}{2^{n+1} + 2}$?

- ক. $\frac{3}{2}$ খ. $\frac{2}{3}$ গ. 1 ঘ. 2^{30} উ. ক

৫৬. $2^{30} + 2^{30} + 2^{30} + 2^{30} = ?$

- ক. 8^{120} খ. 8^{30} গ. 2^{32} ঘ. 2^{30} উ. গ

৫৭. 40% of 200 is what percent of 160?

- ক. 20 খ. 80 গ. 60 ঘ. 50 উ. ঘ

৫৮. What is the value of 'n' if $(8 - 3)(8 - n) = 40$?

- ক. -3 খ. 8 গ. 0 ঘ. -5 উ. গ

৫৯. If $\frac{1}{y} = 3\frac{1}{2}$ then $\frac{1}{y+2} = ?$

- ক. $\frac{7}{16}$ খ. $\frac{2}{7}$ গ. $\frac{2}{11}$ ঘ. $\frac{2}{16}$ উ. ক

৬০. Mr. X lost a wallet containing Tk. 120. Incidentally, he had only notes of Tk. 2, Tk. 3 and Tk. 5 denominations in the wallet. If the total number of notes was 30, how many Tk. 5 denomination notes did he has? www.prebd.com

- ক. 15 খ. 16 গ. 18 ঘ. 20 উ. গ

৬১. The world leaders are not indifferent..... the spreading of Corona virus across the world. Fill in the blank with an appropriate preposition for this sentence from the following.

- ক. of খ. to গ. with ঘ. for উ. খ

৬২. Choose the correct sentence:

- ক. What is your pretext for opposing me?
 খ. What is your pretext of opposing me?
 গ. What is your pretext at opposing me?
 ঘ. What is your pretext to opposing me? উ. ক

৬৩. 'The' article is used before:

- ক. China খ. Indonesia গ. Malaysia ঘ. Philippines উ. ঘ

৬৪. Antonym of the word 'resolute' is

- ক. persevering খ. steadfast গ. unyielding ঘ. vacillating উ. ঘ

৬৫. The question tag of 'Let's go out for a walk' is

- ক. Shall we? খ. Shan't we? গ. Let we? ঘ. Let not we? উ. ক

৬৬. He refused to attend the meeting..... his illness.

- ক. on part of খ. on point of গ. on the ground of ঘ. with a view to উ. গ

৬৭. What is the meaning of the phrase 'carry the day'?

- ক. busy all day খ. free all day গ. win ঘ. loss উ. গ

৬৮. The word 'urbane' is related to:

- ক. city life খ. manners গ. village life ঘ. slum dwellers উ. খ

৬৯. Etymology is a branch of

- ক. Economics খ. linguistics গ. statistics ঘ. history উ. খ

৭০. Epigram is a short poem that does not exceed more than:

- ক. six lines খ. eight lines গ. twelve lines ঘ. fourteen lines উ. ক

৭১. Who is the author of 'Pride and Prejudice'?

- ক. Jane Austen খ. Bernard Shaw গ. John Milton ঘ. George Orwell উ. ক

৭২. Who wrote "Ode to Psyche"?

- ক. Lord Byron খ. John Keats গ. Shakespeare ঘ. William Wordsworth উ. খ

৭৩. The show this weekend promises to attract..... than the last one.

- ক. an even greater amount of people www.prebd.com

খ. an ever larger amount of people

গ. an even greater number of people

ঘ. a number of people even larger উ. গ

৭৪. Man is still a in the labour market

- ক. glut খ. possibility গ. Commodity ঘ. provision উ. ক

৭৫. is it difficult dispose..... waste?

- ক. Where, to, for খ. Why, with, in

গ. why, to, of ঘ. When, for, such উ. গ

৭৬. Choose the correct sentence:

ক. There is an affinity two language

খ. I still adhere with my plan.

গ. He is alarmed for any safety.

ঘ. The meeting was adjourned for a week. উ. ঘ

৭৭. The miscreants must be found and tried as this has gone beyond the usual..... that can happen in school.

- ক. Shenanigans খ. Wreckage গ. Vandalism ঘ. Sabotage উ. ক

৭৮. Translate into English: 'সে কি এ খবরটা পেয়ে থাকবে?'

ক. Would this news get by him? খ. Will he have got this news?

গ. Will he got this news? ঘ. Would this news got by him? উ. খ

৭৯. If the bus to the airport hadn't been so late, we the plane.

- ক. had caught খ. would catch গ. can catch ঘ. would have caught উ. ঘ

৮০. The comparative degree of the word 'Prettiest' is:

- ক. Prettyer খ. Pretier গ. Prettier ঘ. Pretty উ. গ

৪১তম বিসিএস প্রিলিমিনারি পরীক্ষার জন্য আপনার প্রস্তুতিকে পূর্ণাঙ্গ করতে পড়ুন-

১০ জন বিসিএস ক্যাডার কর্তৃক রচিত ও সম্পাদিত

'অগ্রদূত বিসিএস প্রিলিমিনারি ডাইজেস্ট'